

تمارين درس الأعداد النسبية

الجزء الأول

Latreche MIFA

(1) إشارة الأعداد النسبية:**التمرين 1:**

من بين الأعداد التالية، أذكر الموجبة منها والسالبة:

$-2 ; 3,5 ; -4,7 ; -12 ; 7,2 ; -8,5 ; 37 ; -78 ; 32$.

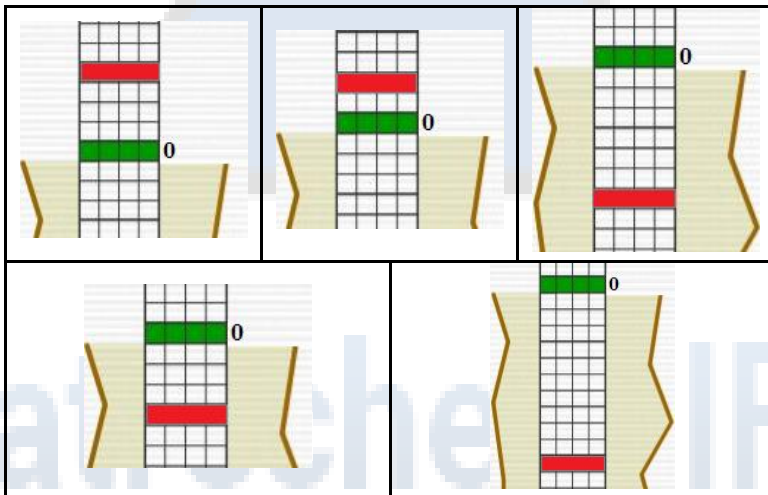
(الحل)**التمرين 2:**

من بين الأعداد التالية، أذكر الموجبة منها والسالبة:

$-11 ; 2 ; 8 ; -15 ; 3 ; -6 ; 5 ; -9 ; -8 ; 7$.

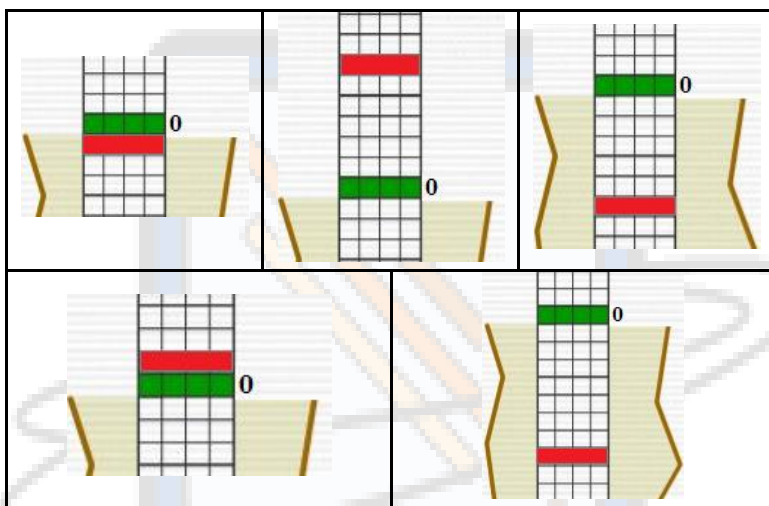
(الحل)**(2) استعمال الأعداد النسبية:****2.1. إيجاد العدد النسبي المطلوب:****التمرين 1:**

إذا كان المستطيل الأخضر يمثل الطابق الأرضي لبناية، ما هو العدد النسبي الذي يمثل المستطيل الأحمر، في كل حالة من الحالات التالية:

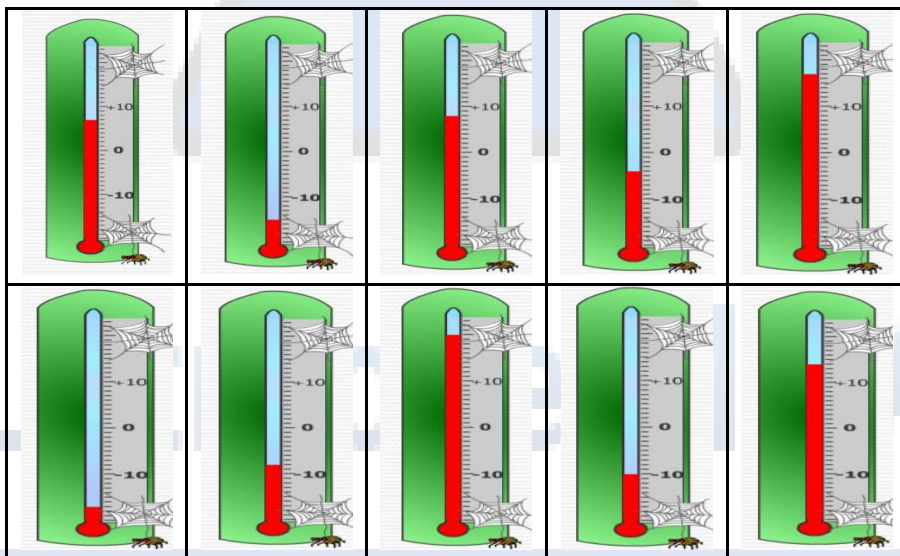
**(الحل)**

التمرين 2:

إذا كان المستطيل الأخضر يمثل الطابق الأرضي لبناية، ما هو العدد النسبي الذي يمثل المستطيل الأحمر، في كل حالة من الحالات التالية:

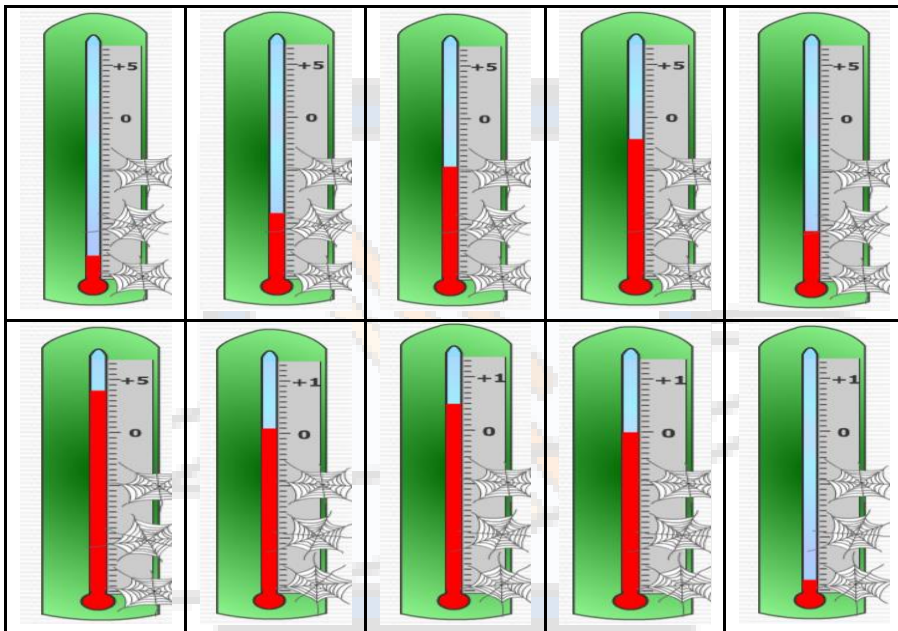
**(الحل)****التمرين 3:**

ما هو العدد النسبي الذي يمثل درجة الحرارة، في كل حالة من الحالات التالية:

**(الحل)**

التمرين 4:

ما هو العدد النسبي الذي يمثل درجة الحرارة (انتبه جيدا للتدرجات)، في كل حالة من الحالات التالية:

**(الحل)**

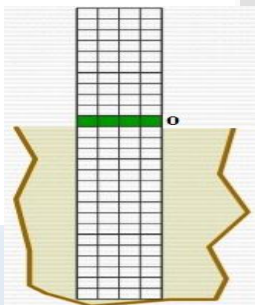
2.2. وضع العدد النسبي في المكان المناسب:

التمرين 1:

في الشكل المقابل، إذا كان المستطيل الأخضر يمثل الطابق الأرضي

لبناية، مثل كل عدد نسبي من الأعداد التالية بسهم:

$-11 ; 2 ; 8 ; -15 ; 3 ; -6 ; 5 ; -9 ; -8 ; 7$

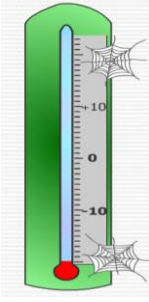
**(الحل)**

Latreche MIFA

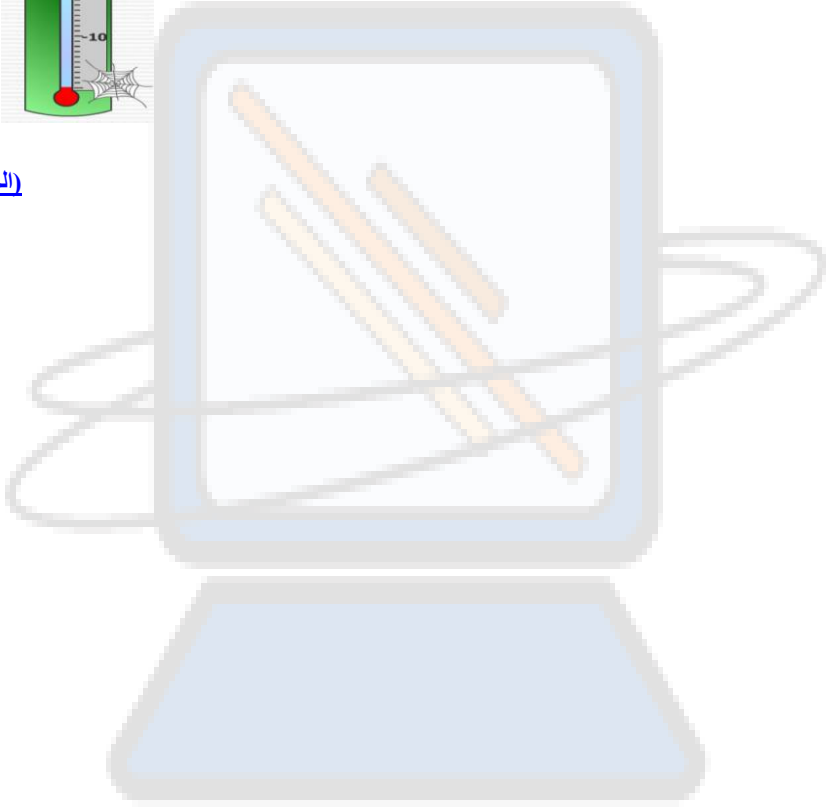
التمرين 2:

في الشكل المقابل، مثل كل عدد نسبي من الأعداد التالية بسهم:

.5 ; -1 ; -5 ; 21 ; -14 ; 2 ; 15 ; -17 ; -9 ; 10



(الحل)



Latreche MIFA

حلول تمرين درس الأعداد النسبية:
-الجزء الأول-

(1) إشارة الأعداد النسبية:حل التمرين 1:

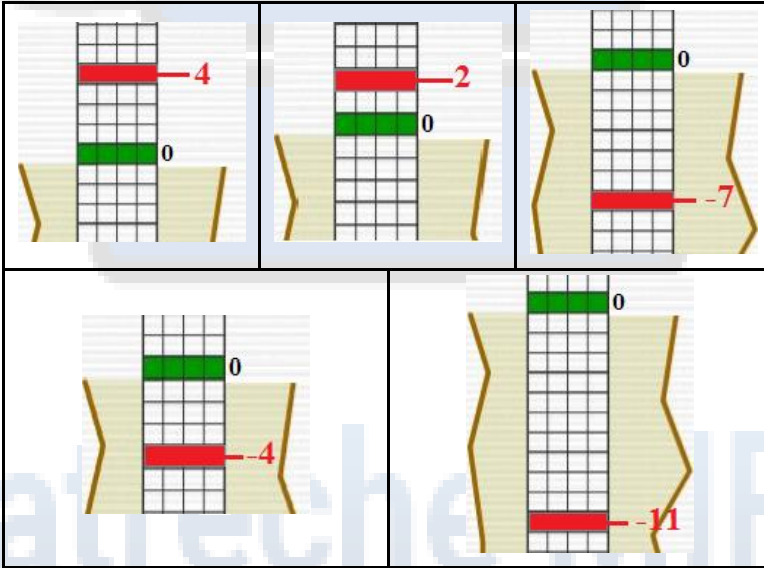
❖ الأعداد الموجبة هي: 3,5 ; 7,2 ; 37 ; 32

❖ الأعداد السالبة هي: -2 ; -4,7 ; -12 ; -8,5 ; -78

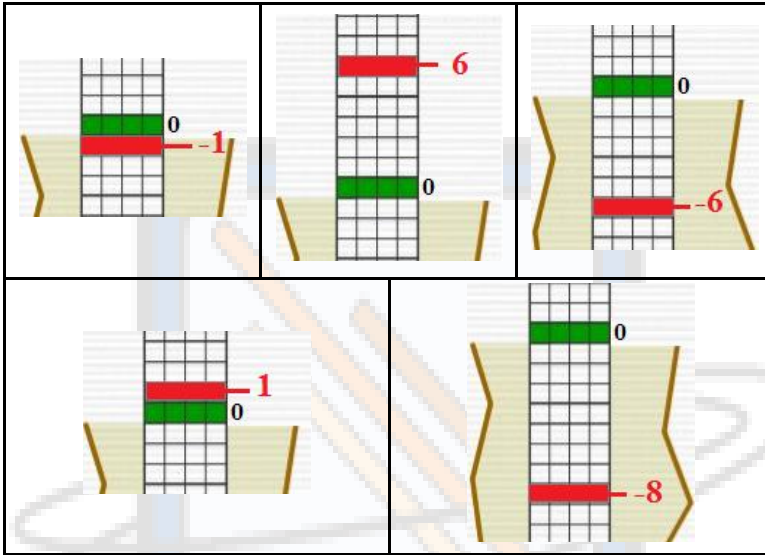
(التمرين)حل التمرين 2:

❖ الأعداد الموجبة هي: 2 ; 8 ; 3 ; 5 ; 7

❖ الأعداد السالبة هي: -11 ; -15 ; -6 ; -9 ; -8

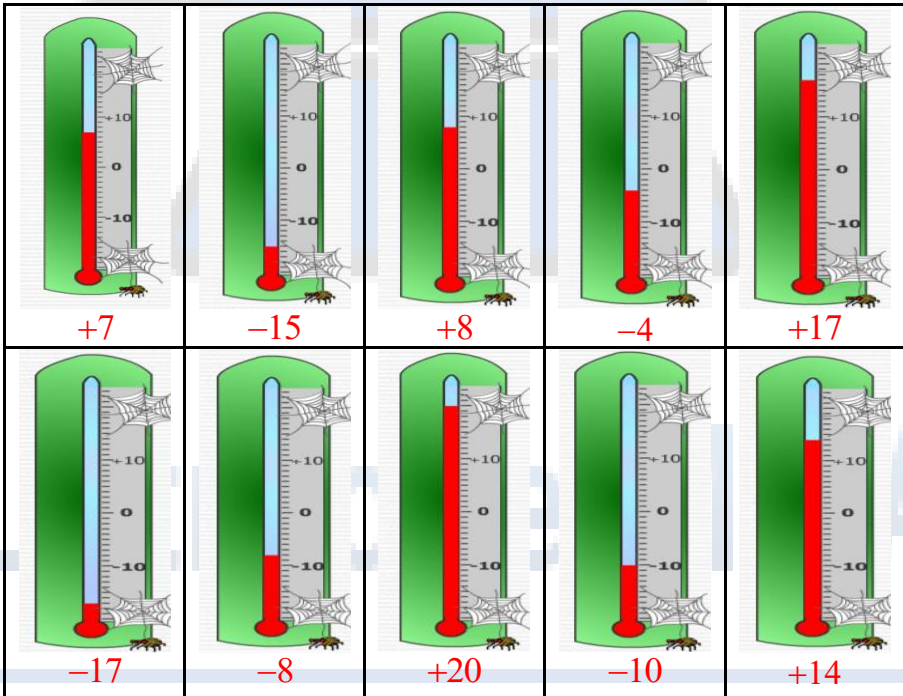
(التمرين)(2) استعمالات الأعداد النسبية:2.1. إيجاد العدد النسبي المطلوب:حل التمرين 1:(التمرين)

حل التمرين 2:

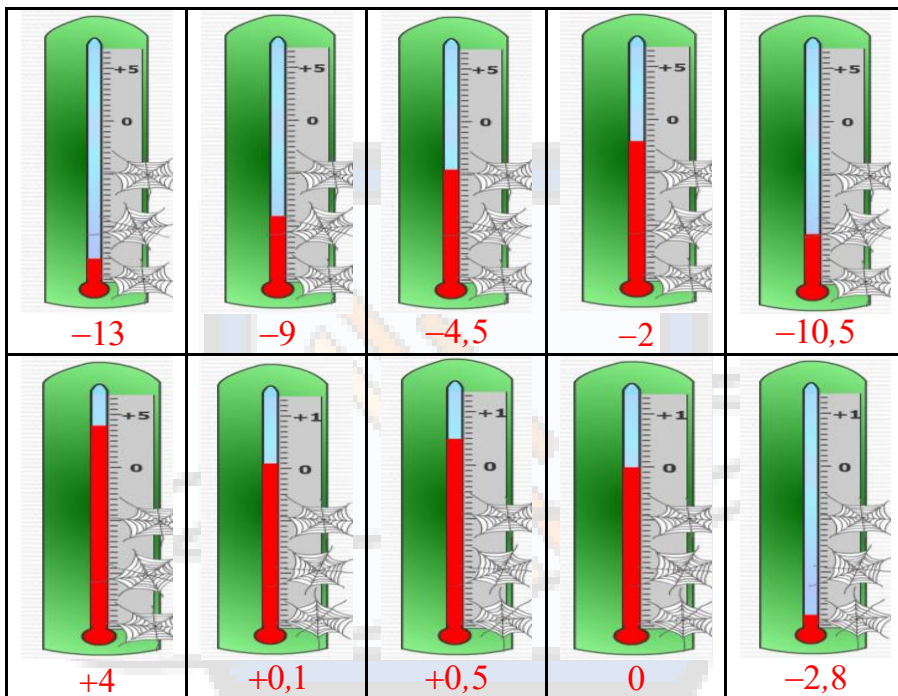
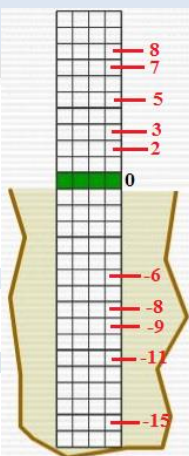


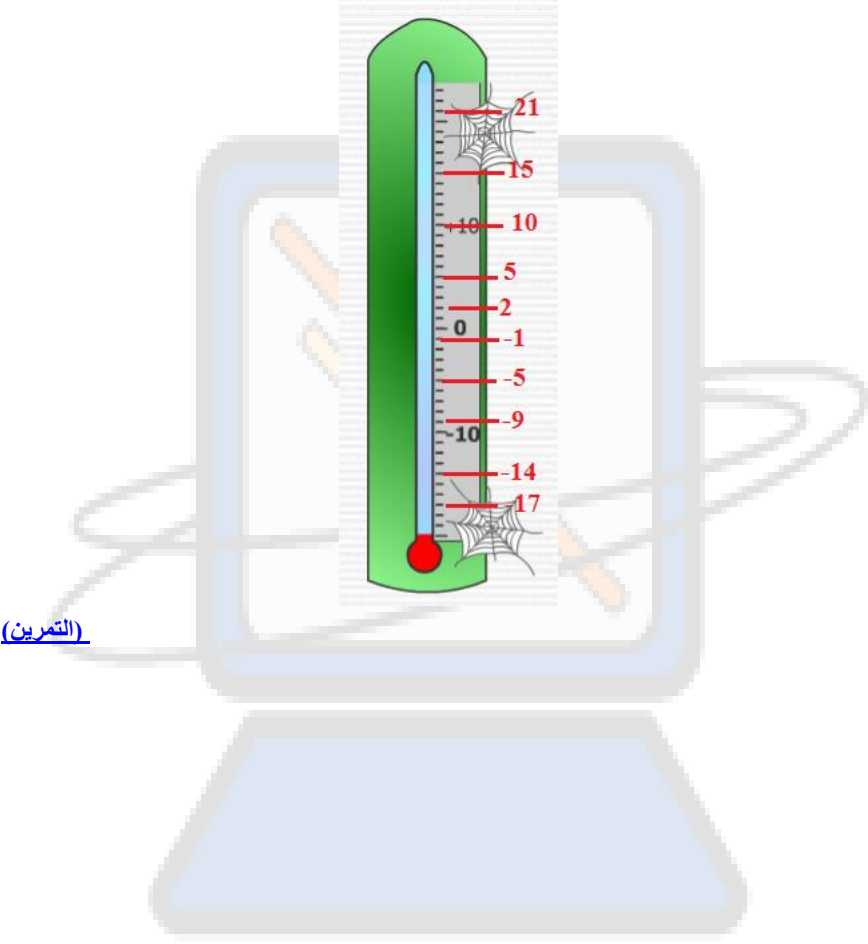
(التمرين)

حل التمرين 3:



(التمرين)

حل التمرين 4:(التمرين)2.2. وضع العدد النسبي في المكان المناسب:حل التمرين 1:(التمرين)

حل التمرين 2:

Latreche MIFA